




ACTIVIDADES A REALIZAR


Deberás medir mediante google maps la distancia que hay entre los siguientes puntos. Se supone que antes has marcado en google maps los puntos donde hay una imagen secreta.

Expresa la distancia en kilómetros y metros

a)  \_\_\_\_\_  
\_\_\_\_\_

b)  \_\_\_\_\_  
\_\_\_\_\_

c)  \_\_\_\_\_  
\_\_\_\_\_

d)  \_\_\_\_\_  
\_\_\_\_\_

e) Imagina que en el apartado a) de cada 100 metros recorridos has bebido de tu botella de 1.5 litros que llevabas en la mochila tragos de 125 centilitros. ¿Cuanto has bebido en el recorrido? ¿Has gastado la botella de agua? ¿Te ha sobrado?¿Cuanto?